





1 Jak nazywają się kwiaty na ilustracjach?

- Policz kwiaty w bukietach. Narysuj tyle samo kółek pod każdym bukietem.
- Otocz pętlą te kwiaty, których jest najwięcej.
- Postaw **x** przy tych bukietach, w których jest po tyle samo kwiatów.



2 Narysuj tyle płatków, aby na każdym kolejnym kwiatku było o jeden więcej.



■ Narysuj tyle płatków, aby na każdym kolejnym kwiatku było o jeden mniej.

